

+0XNΛξ+ | NCY0ξθ
+0C0M00+ | %0XCξ 00C%0
Λ %0NCΛ 0CЖM00% Λ +%||%+



المملكة المغربية
وزارة التربية الوطنية
والتعليم الأولي والرياضة

روائز التقويم التشخيصي

المستويات الدراسية

الخامس ابتدائي ✨

السادس ابتدائي ✨

الأولى إعدادي ✨

الثانية إعدادي ✨

2022-2023

مجموعة الدعم التربوي ابتدائي وإعدادي



الجمهورية العربية السورية
وزارة التربية والتعليم
والتعليم الأوتنر والرياضة



السلطنة السورية
وزارة التربية والتعليم
والتعليم الأوتنر والرياضة

رائز التقويم التشخيصي في مادة الرياضيات

الإسم والنسب:.....

القسم: السادس ابتدائي

السنة الدراسية: 2022-2023

1- رتب (ي) الأعداد التالية ترتيبا تزايديا : /1

174869 - 22458 - 174896 - 22548 - 147986

2- ضع (ي) وأنجز (ي): /2

$$35770 : 73$$

3- ضع (ي) وأنجز (ي): /2

$$756 \times 48$$

/2

$$75843 - 53448$$

2- ضع (ي) وأنجز (ي): /2

$$68795 + 5694$$

5- رتب (ي) الأعداد التالية ترتيبا تناقصيا : /1

789,2 - 798,12 - 6547,4 - 6475,4 - 78,920

7- ضع (ي) وأنجز (ي): /2

$$867 \times 7,5$$

6- ضع (ي) وأنجز (ي): /2

$$9657,45 - 142,84$$

$$568,74 + 853,66$$

8- من بين الجداول التالية ما هو الجدول الذي أعداد سطره الثاني متناسبة مع أعداد سطره الأول ؟ /1

12	24	36	21
4	8	12	7

الجدول 4

18	10	12	14
9	30	6	8

الجدول 3

18	21	10	27
6	10	2	12

الجدول 2

20	80	3	7
24	8	15	11

الجدول 1

الجدول الذي أعداد سطره الثاني متناسبة مع أعداد سطره الأول هو.....

9- رافقت (ي) والدك إلى المتجر وفي محفظته 1250 DH. اشتريتما الملابس المبينة في الجدول التالي: /3

الملابس	ثمن الواحد منها	الكمية	الثمن الإجمالي
السراويل	125DH	2	250DH
القمصان	90 DH	4	360DH
الأحذية	170DH	2	340 DH
المجموع		

هل المبلغ المتبقي كاف لشراء بذلة رياضية ثمنها 300 DH ؟

.....

.....

.....

.....

.....

الهندسة : /13

1- لاحظ (ي) الزوايا وأتمم (ي) الجدول بوضع علامة x في الخانة المناسبة : /3

الزاوية	زاوية قائمة	زاوية مستقيمة	زاوية حادة	زاوية منفرجة
1				
2				
3				
4				
5				
6				

2- أرسم (ي) دائرة مركزها O وشعاعها 2 cm

/1,5

1- أرسم (ي) مستطيلا طوله 6 cm وعرضه 4 cm

/1,5

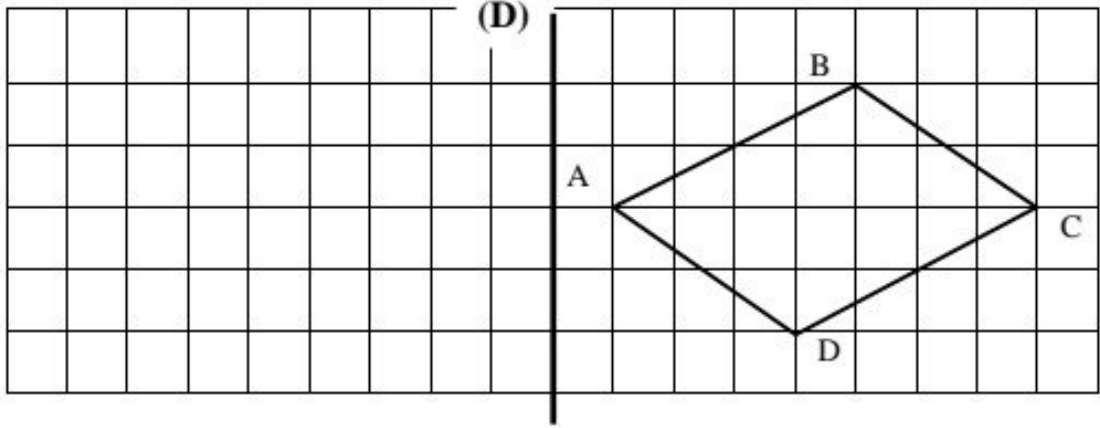
محيط هذا المستطيل هو : /1

.....

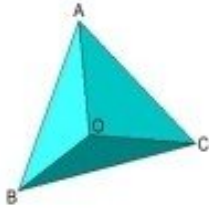
محيط هذه الدائرة هو : /1

.....

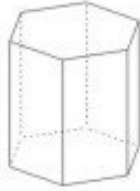
4- أرسم (ي) مماثل الشكل التالي بالنسبة لمحور التماثل (D): /1



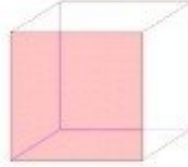
5- أكمل الجدول بما يناسب : /4



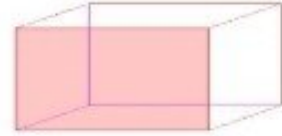
4



3



2



1

إسم الجسم	-1	-2	-3	-4
عدد رؤوسه				
عدد أحرفه				
عدد وجوهه				

القياس : /11

1- حول (ي) إلى الوحدة المطلوبة :

/2 71 km 3,40 dam =m

/2 6,5 kg 20 dag =g

/2 36 daL 5,04 dL =L

/2 9,4m² 21cm² = dm²

2- خلط عامل 54,750 kg من الكرز و 35,3 kg من السكر. وبعد الطهي أصبح الخليط يزن 87,5 kg .

هل ازدادت كتلة الخليط بعد الطهي أم نقصت، وبكم ؟ /3

.....

