

شروط قابلية رؤية الشيء

I - رؤية الأشياء

1 - مفهوم الشيء الضوئي

أ - نسمي الشيء الضوئي كل شيء ينبعث من الضوء .

ب - الأشياء الضوئية نوعان :

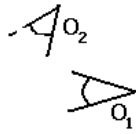

Des sources lumineuses كالشمس والمصباح المتوهج ، القنديل الخ
- أشياء مضاءة ، لا يمكن رؤيتها إلا إذا سلط عليها الضوء ،
هذه الأشياء تستقبل الضوء وترسل منه جزءا في جميع
الاتجاهات (تشتته) مثال : القمر والورق الشفاف ..

يمكن اعتبار الشيء الضوئي مكون من مجموعة
نقط باعثة أو مشتتة للضوء Emission ou

diffusion ، كل نقطة منه تسمى بالنقطة الشيء الضوئي .

2 - هل يمكن رؤية الضوء ؟ : شرطا قابلية رؤية الشيء
تمرين 1

يوجد داخل علبة مظلمة وجوانبها الداخلية سوداء بها ثقب S ، مصباحان L_1 و L_2 مشتغلان .



ملاحظتان O_1 و O_2 يوجدان في الوضعية المشار إليها في
التيبانية جانبه ينظران من خلال الثقب S .

1 - أي من المصباحين يراه الملاحظ O_1 ؟ لماذا لا يرى
هذا الملاحظ المصباح الآخر ؟

نفس السؤال بالنسبة للملاحظ O_2 .

2 - في التجربة الثانية لا ترى العين O إلا الجسم A ،
فسر ذلك .

3 - أستنتج شروط رؤية الشيء .

خلاصة : لا يمكن رؤية الشيء إلا إذا كان

منبعا للضوء أو مضاء وبشتت جزءا من

الضوء الذي يستقبله . (الضوء لا يرى لكن ترى

الأشياء المضاءة) وأن يصل الضوء المنبعث من

الشيء إلى عين المشاهد .

3 - مبدأ الانتشار المستقيم للضوء .


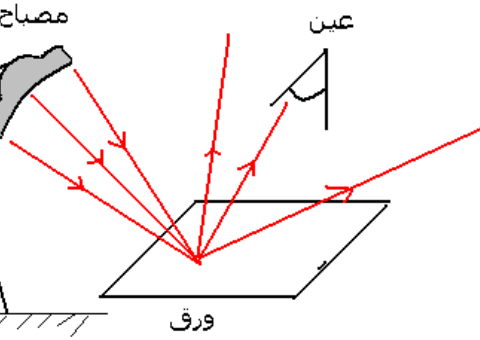
أ - الوسط الشفاف والوسط المعتم :

كل وسط يخترقه الضوء فهو وسط شفاف transparent . في حالة عكس ذلك يسمى الوسط
معتم opaque . ويكون الوسط متجانس إذا كان يتميز بنفس الخصائص البصرية في جميع نقطه

ب - مبدأ الانتشار المستقيم للضوء :

ينتشر الضوء في وسط شفاف ومتجانس وفق خطوط مستقيمة .

ج - نموذج الشعاع الضوئي



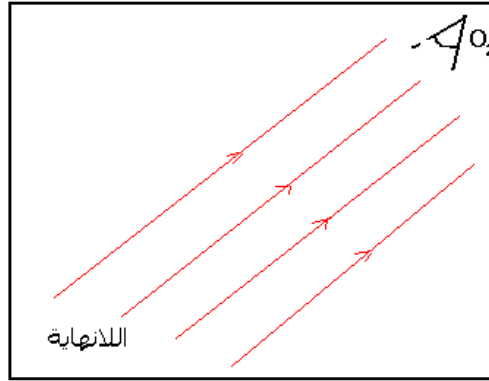
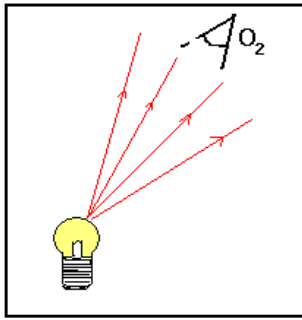
يمكن تمثيل المسارات التي يسلكها الضوء المنبعث من نقطة شيء في وسط شفاف ومتجانس ، بمستقيمات موجهة بسهم حسب منحى انتشار الضوء ابتداء من نقطة الشيء : نسمي كلا من هذه المستقيمات : شعاعا ضوئيا rayon lumineux .

ملحوظة 1 :

ليس للشعاع الضوئي وجود مادي ، فمن المستحيل عزل شعاع واحد عن حزمة ضوئية تجريبيا

ملحوظة 2:

إذا كان الشيء بعيدا جدا عن العين ، أي يمكن اعتباره موجودا في اللانهاية ، فإن الأشعة التي تبعثها كل نقطة منه تكون متوازية فيما بينها .
إذا كان الشيء قريبا ، نعتبر أن كل نقطة منه تبعث حزمة ضوئية متفرقة .



II - ظاهرة انكسار وانعكاس الضوء

النشاط التجريبي

نضع نصف أسطوانة من البليكسيكلاص على قرص مدرج وبواسطة منبع ضوئي ، يتكون من مصباح يعطي ضوءا أبيضاً ، نرسل حزمة ضوئية رقيقة تمر من النقطة O مركز نصف الأسطوانة .

حيث تتسنت الحزمة الضوئية على القرص المدرج وفق خط مستقيمي .

– حدد زاوية الورود i_1 ، ثم قس زاوية الانكسار i_2 على البليكسيكلاص .

– أنجز قياسات متعددة وذلك بتغيير زاوية الورود .

املا الجدول التالي :

i_1°	0	10	20	30	40	50	60	70	80
i_1°									
i_2°									
$\text{Sin}i_1$									
$\text{Sin}i_2$									

استثمار :

1 – تحقق من أن الحزمة الضوئية الواردة والحزمة الضوئية المنعكسة توجدان في نفس المستوى .

2 – تحقق كذلك من أن الحزمة الضوئية الواردة والحزمة الضوئية المنكسرة توجدان في نفس المستوى أيضا .

3 – قارن بين قيم i_1 زاوية الورود وقيم i_1' زاوية الانعكاس . ماذا تستنتج ؟

4 _ حدد وسطي انتشار الحزمتين الضوئيتين الواردة والمنكسرة.

5 _ أرسم المنحنى $\sin i_1 = f(\sin i_2)$.

2 _ أكتب الصيغة الرياضية لهذا المستقيم . ماذا يمثل معامله الموجه الذي نسميه بمعامل الانكسار ؟ استنتج قيمته .

3 _ استنتج العلاقة بين زاوية ورود وزاوية الانكسار .

4 _ ماذا يحدث لأشعة الضوء عند اجتيازها لسطح كاسر ؟

1 _ انعكاس الضوء

أ تعريف

الانعكاس هو انحراف شعاع ضوئي وفق اتجاه معين ، عندما يرد الشعاع الضوئي على سطح عاكس . ويتم هذا الانحراف في نفس الوسط الذي يأتي منه الشعاع الوارد .

نسمي مستوى الورد المستوى الذي يضم المنظمي والشعاع الضوئي الوارد .

زاوية الورد i هي الزاوية التي يشكلها الشعاع الوارد مع المنظمي .

زاوية الانعكاس i' هي الزاوية التي يكونها الشعاع المنعكس مع المنظمي .

ب _ قانونا ديكارت للانعكاس .

القانون الأول : الشعاع الوارد والشعاع المنعكس يوجدان في نفس المستوى (

مستوى الورد)

القانون الثاني : زاوية الورد i وزاوية الانعكاس i' متساويتان : $i = i'$

2 _ انكسار الضوء

أ تعريف

الانكسار هو تغيير اتجاه شعاع ضوئي عندما يعبر هذا الأخير السطح الفاصل بين وسطين مختلفين وشفافين ومتجانسين .

السطح الكاسر هو السطح الفاصل بين الوسطين . والمنظمي هو المستقيم العمودي على السطح الكاسر عند نقطة الورد I .

يكون الشعاع الوارد مع المنظمي زاوية الورد i_1 ويكون الشعاع المنكسر مع المنظمي زاوية الانكسار i_2 .

ب _ قانونا ديكارت الانكسار

القانون الأول : الشعاع الوارد والشعاع المنكسر يوجدان في نفس المستوى .

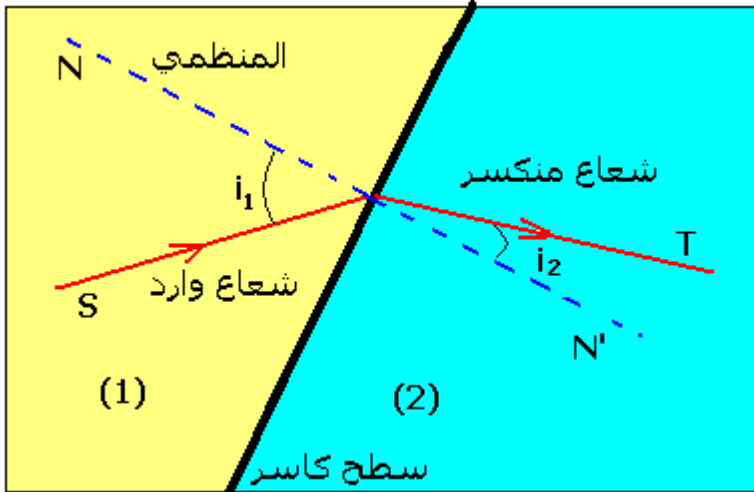
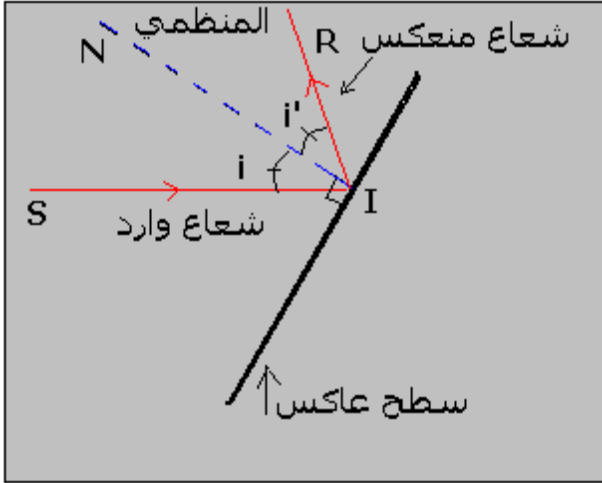
القانون الثاني : زاوية الورد i_1 وزاوية الانكسار i_2 ترتبطان بالعلاقة :

$$n_1 \sin i_1 = n_2 \sin i_2$$

حيث n_1 معامل الانكسار للوسط (1)

و n_2 معامل الانكسار للوسط (2)

ج _ معامل الانكسار



* معامل الانكسار النسبي

نعرف معامل الانكسار النسبي للوسط (2) بالنسبة للوسط (1) بالعلاقة التالية :

$$n_{2/1} = \frac{\sin i_1}{\sin i_2}$$

وهو مقدار بدون وحدة .

* معامل الانكسار المطلق

نسمي معامل الانكسار المطلق n لوسط شفاف ، معامل انكسار هذا الوسط بالنسبة للفراغ .

معامل انكسار الفراغ يساوي 1

معامل الانكسار المطلق للهواء هو : $n=1,0003$

معامل الانكسار المطلق للزجاج هو : $n=1,5$

ملحوظة :

حسب القانون الثاني للديكارت يمكن كتابة العلاقة على الشكل التالي :

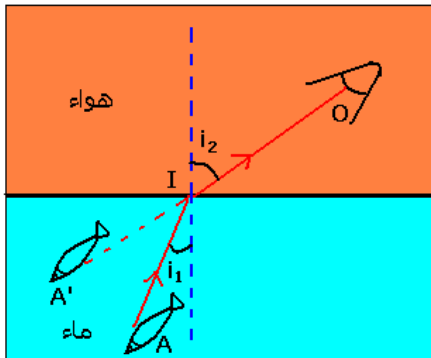
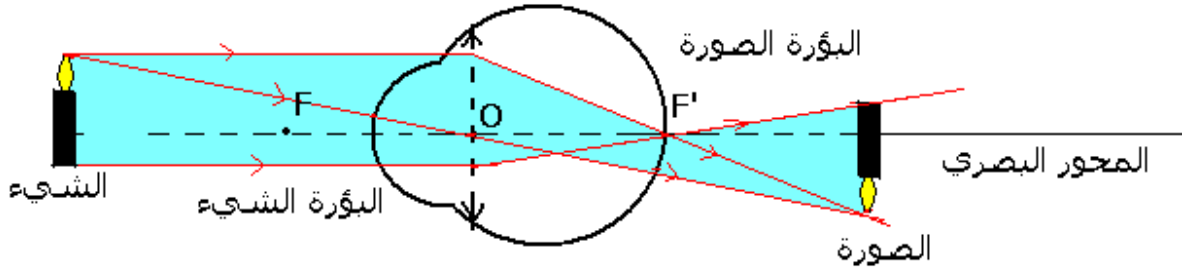
$$\frac{n_2}{n_1} = \frac{\sin i_1}{\sin i_2}$$

إذا كانت $n_1 < n_2$ فإن $\sin i_2 < \sin i_1$ وبالتالي $i_2 < i_1$ يكون انحناء الشعاع الضوئي دائما نحو المناطق التي لها معامل انكسار تزايد .

تطبيقات للانكسار : رؤية الأشياء

يمكن تشبيه العين بجهاز بصري يتكون من سطوح كاسرة، البؤبؤ ، السائل الزجاجي ، الشبكية ويمكن تمثيل العين بعدسة مجمعة مسافتها البؤرية الصورة f' . ويسمى هذا النموذج بالعين البسيطة .

بالنسبة لهذا النموذج لا تتكون الصورة في الشبكية عندما يكون الشيء قريبا . لتصحيح ذلك تؤثر عضلات العين على البلورية لتغير مسافتها البؤرية الصورة . نقول أن العين تكيفت . وتجدر الإشارة إلى أن الرؤية عند الإنسان ، تتعلق أساسا باشتغال الدماغ وراء المستقبل وهو العين .



تري العين السمكة وكأنها قرنية من السطح الحر للماء وهذا ليس حقيقة

أمثلة لتكيف الدماغ على الانتشار المستقيمي للضوء

مثال 1

مثال ثاني : السراب

3 _ مبدأ الرجوع العكسي للضوء

نص المبدأ :

إذا سلك الضوء مسارا معيناً ، فإنه عند عكس منحنى انتشاره يسلك نفس المسار .

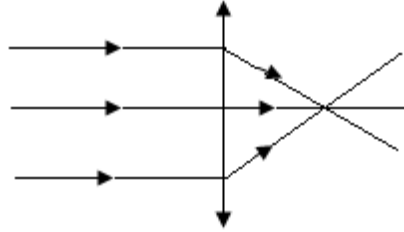
III - العدسة أداة تغير شكل حزمة ضوئية .

1 - تعريف

العدسة الكروية وسط شفاف ومتجانس محدود بوجهين كرويين أو بوجه كروي وآخر مستو .
سمك حافة عدسة كروية يختلف عن سمك وسطها ، وهي نوعان :
_ عدسات ذات حافة رقيقة وتتميز بكونها رقيقة عند الحافة وتزداد سمكا في الوسط ، وتسمى العدسات المجمعة .
_ عدسات ذات حافة سميكة وتتميز بكونها رقيقة في الوسط وتزداد سمكا عند الحافة وتسمى العدسات الممفقة .

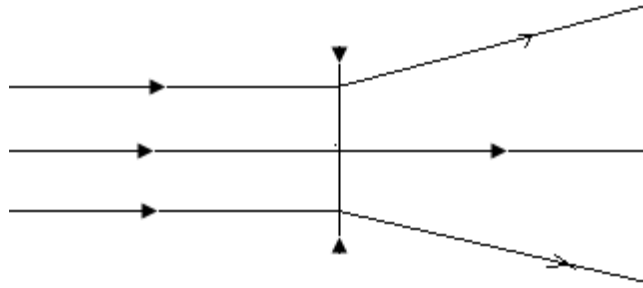
2 - تأثير عدسة مجمعة وعدسة ممفقة على حزمة ضوئية متوازية .

تجربة 1:



العدسة المجمعة تحول حزمة ضوئية متوازية إلى حزمة ضوئية مجمعة .

تجربة 2



العدسة الممفقة تحول حزمة ضوئية متوازية إلى حزمة ضوئية متفرقة .
ملحوظة : الأوساط الشفافة للعين تتصرف مثل عدسة مجمعة ، ذلك أنها تجمع الحزم الضوئية التي تدخل إلى العين لتصل إلى الشبكية .