


الاسم العائلي و الشخصي : المستوى الثالث ابتدائي التاريخ:

النقطة	إمضاء الأب أو الولي	إمضاء الإدارة

1 / أكتب : يطير - يقفز - يعوم - يزحف .



2

2 / أملاً الجدول : فيل - دلفين - فراشة - غزال - خفاش - أسماك

وسط هوائي	وسط مائي	وسط بري
.....
.....
.....

1

3 / أجب ب : نعم أو لا :

☞ للسمة زعانف تمكنها من العوم .



☞ الجناح عند النسر طرف أمامي مكسو بالريش.

☞ الحيوانات التي تقفز لها أطراف خلفية أقصر من الأطراف الأمامية.

☞ تنتقل الحيوانات في الوسط البري مشياً أو جرياً أو قفزاً أو زحفاً .

2

4 / أملاً الفراغ بما يناسب : حراشيف - مجاديف - الحرف Z .



☞ الحيوانات التي تقفز لها أطراف خلفية تنتهي على شكل

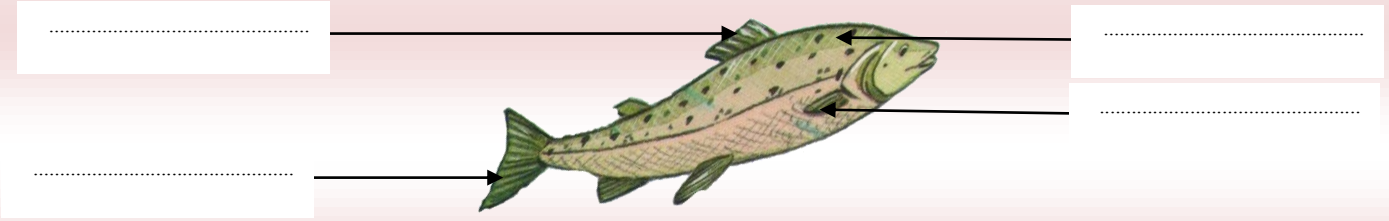
☞ جسم السمكة مكسو بـ تسهل انزلاقها في الماء .

☞ تستطيع بعض الحيوانات التنقل في الماء بفضل تحول أطرافها إلى

1.5

5/ أكتب الاسم المناسب أمام كل سهم : زعنفة ذيلية - زعنفة صدرية - زعنفة ظهرية - حراشيف

1



6 / أحيط بخط الجملة الصحيحة

☞ يرتفع عدد الحركات التنفسية مع ازدياد المجهود البدني.

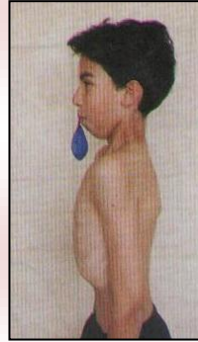
0.5

☞ ينقص عدد الحركات التنفسية مع ازدياد المجهود البدني.



7 / أكتب اسم العملية

عملية



1

8 / أكمل الجملة بما يناسب.

للحفاظ على سلامة جهازي التنفسي يجب علي استنشاق هواء و تجنب كل مكان به هواء

1



2