

1 ن / أكتب بالأرقام :

6 وحدات و 5 عشرات .

4 عشرات.



2 ن / أصل بخط أو أكمل.

90

35

.....

53

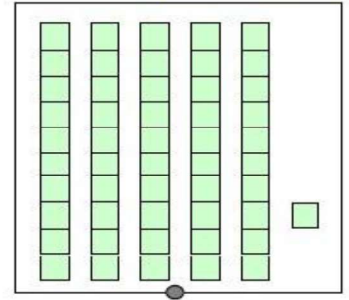
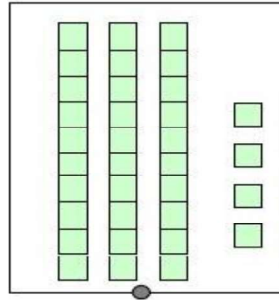
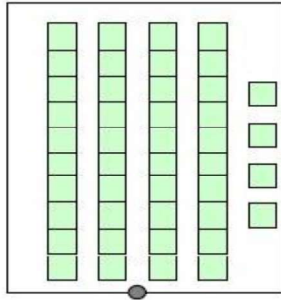
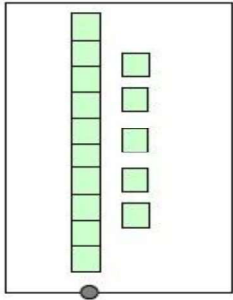
خَمْسَةٌ وَ ثَلَاثُونَ

ثَلَاثَةٌ وَ خَمْسُونَ

.....

أَرْبَعَةٌ وَ سِتُّونَ

2 ن / أصل بخط



34

51

44

15

2 ن / أرتب الأعداد التالية من الأصغر إلى الأكبر :

45 ; 6 ; 38 ; 13

..... < < <



/ أنجز:

3 ن

$$\begin{array}{r} 25 \\ + 15 \\ \hline \end{array}$$

. .

$$\begin{array}{r} 54 \\ + 30 \\ \hline \end{array}$$

. .

$$\begin{array}{r} 37 \\ + 14 \\ \hline \end{array}$$

. .