

## Test des connaissances :

I- Donner le mot correspondant à chaque définition :  
**Stigmate-branchie-trachée-stomates.**

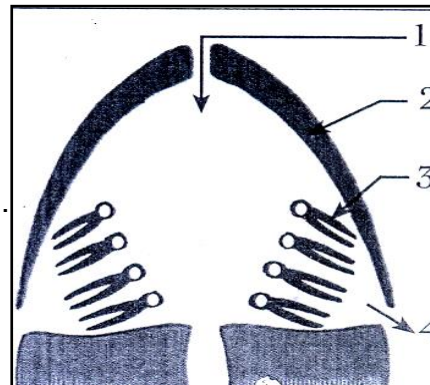
- Organe respiratoire permettant les échanges gazeux entre l'eau et le sang .....
- Petits pores situés le plus souvent sur la face inférieure des feuilles et qui s'ouvrent et se ferment selon les besoins .....
- Petit orifice situé sur chaque anneau de l'abdomen du criquet .....
- Tube très fin qui se ramifie dans tout le corps de l'insecte reliés à l'extérieur par un stigmate .....

II- Compléter le tableau suivant :

animal	mouche	sardine	fourmi	Poisson rouge
Organe respiratoire				
Type de respiration				

III- Le document ci-dessous représente une coupe longitudinale de la tête d'un poisson :

- 1 / légendier le schéma.
  - 2/ indiquer le trajet de l'eau. (sur le schéma)
  - 3/ comment peut-on mettre en évidence le trajet de l'eau.
- .....
- 4/ quel est le rôle de l'élément.3
- .....



IV- Souligner les affirmations exactes et corriger celles qui sont inexactes :

- Chez les poissons les échanges gazeux respiratoires se font avec intervention du sang .

.....

- Chez les insectes les échanges gazeux respiratoires se réalisent dans l'eau.

.....

- Les plantes aériennes respirent pendant le jour seulement.

.....

- Chez les végétaux verts les échanges gazeux respiratoires et photosynthétiques se font au niveau des feuilles à travers les stomates.

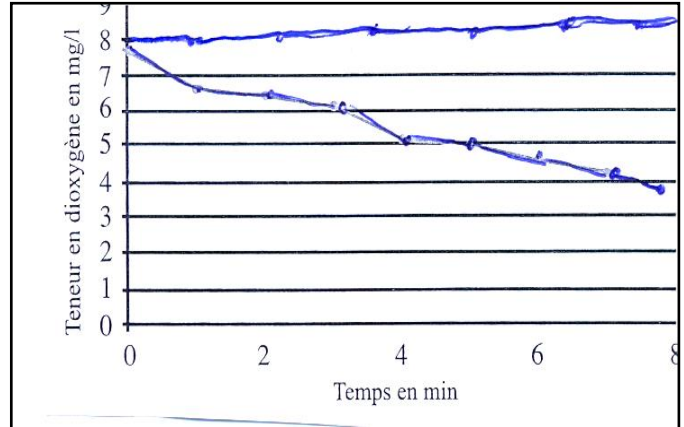
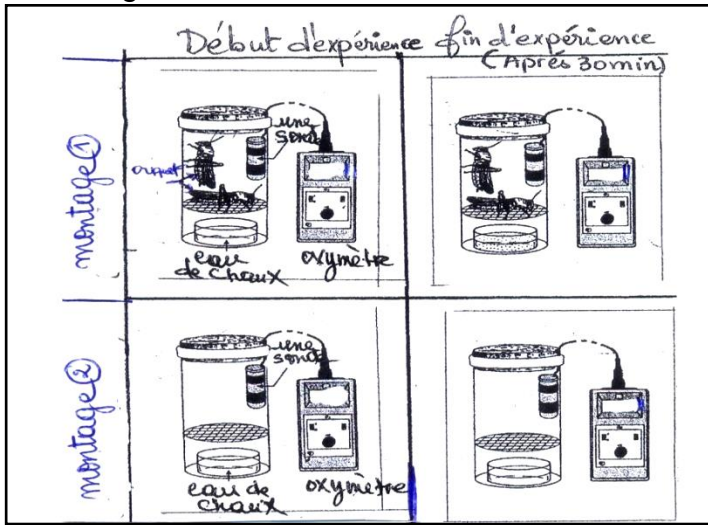
.....

# Utilisation des connaissances :

## Exercice

I- Afin de montrer que le criquet respire on réalise les expériences suivantes effectuées par le montage ci-dessous :

Le document **3b** montre l'évolution de la teneur en oxygène en fonction du temps pour les deux montages :



1/ Relever la différence entre le montage 1 et le montage 2

.....

2/ Analyser les deux expériences

.....  
 .....

3/ Interpréter les deux expériences.

.....  
 .....

5/ Que peut-on conclure ? .....

II- Le document IV montre les structures impliquées dans les échanges gazeux respiratoires chez le criquet.

1/ Indiquer par les flèches rouges le sens d'oxygène et par des flèches bleues le sens du dioxyde de carbone.

2/ En vous basant sur ce document déterminer les voies respiratoires chez le criquet et expliquer comment se font les échanges gazeux respiratoires chez le criquet .

.....  
 .....

3/ déduire le type de respiration chez le criquet .

.....

