


 الامتحان الوطني الموحد للبكالوريا
الدورة الاستدراكية 2011
الموضوع

5	المعامل	RS34	علوم الحياة والأرض	المادة
3	مدة الإجابة		شعبة العلوم التجريبية مسلك العلوم الفيزيائية	الشعب (ة) أو المسلك

التمرين الأول (5 نقط)

- تنشأ سلاسل الطمر في مناطق تقارب صفائح الغلاف الصخري، نتيجة حركية الصفائح وقوى تكتونية انضغاطية. بواسطة عرض سليم ومنظم :
- أعط تعريفا لسلاسل الطمر. (1 ن)
 - حدد التغيرات الصخرية والبيداينية التي تتعرض لها القشرة المحيطية على امتداد مستوى Bénioff (من السطح إلى العمق). (1.5 ن)
 - وضح العلاقة بين نشوء سلاسل الطمر وحركية الصفائح. (2.5 ن)

التمرين الثاني (5 نقط)

- لدراسة بعض الظواهر الإحيائية المنتجة للطاقة نقترح المعطيات التجريبية الآتية:
- زرعت خلايا خميرة البيرة (فطر مجهري وحيد الخلية) في وسط زرع يحتوي على كليكوز، في ظروف تجريبية مختلفة. تلخص الوثيقة 1 هذه الظروف والنتائج المحصلة.

النتائج المحصلة		الظروف التجريبية			الوسط
زيادة الكتلة الحية للخميرة بـ g	الكليكوز المستهلك بـ g	مدة المناولة بالأيام	كمية الكليكوز البدئية بـ g		
1,97	150	9	150		A
0,255	45	90	150		B

الوثيقة 1

- تمت بعد ذلك ملاحظة البنية المجهرية لخليتين من خميرة البيرة مأخوذتين من الوسطين A و B (الوثيقة 2).

RS34



الشكل (ب): خلية خميرة البيرة مأخوذة من الوسط B

الشكل (أ): خلية خميرة البيرة مأخوذة من الوسط A

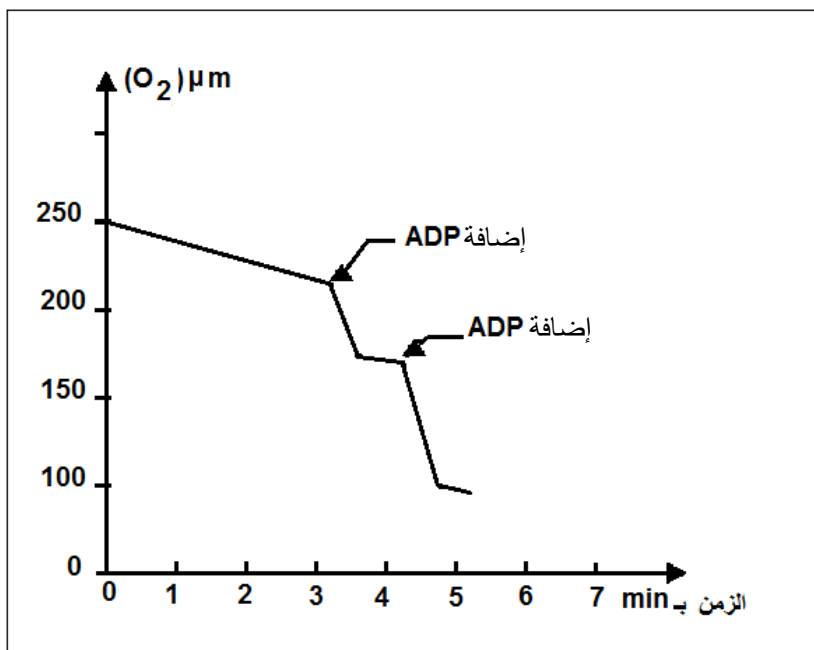
الوثيقة 2

- 1- باستغلالك للوثيقتين 1 و2 استنتج، معللاً إجابتك، الظاهرة الإحيائية المنتجة للطاقة التي حدثت في كل من الوسطين A و B. (1.5 ن)
- بعد إضافة كليكوز مشع في كل من الوسطين A و B كشف تحليل الوسط الخلوي في أزمنة متتالية (من t_0 إلى t_4) عن ظهور مواد كيميائية جديدة مشعة (الوثيقة 3).

الزمن	الوسط الخلوي A		الوسط الخارجي
	ميتوكوندري	جبلية شفافة	
t_0			G^{+++}
t_1		G^{++}	G^+
t_2	$a.P^+$	$a.P^{++}$	
t_3	$a.P^{+++}$, $a.K^+$		
t_4	$a.K^{+++}$		CO_2^+

الرموز: G = كليكوز ، a.P = حمض البيروفيك ، a.K = أحماض دورة Krebs ،
+ : إشعاع ضعيف ، ++ : إشعاع متوسط ، +++ : إشعاع قوي

الوثيقة 3

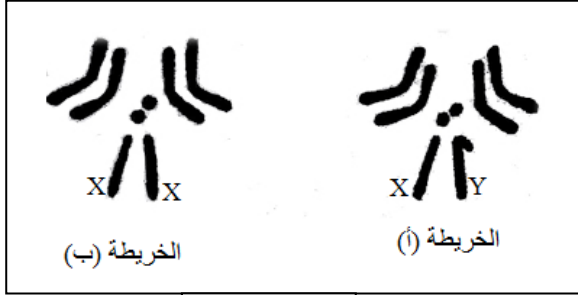


- 2 - فسر النتائج المبينة في الوثيقة 3. (2 ن)
بعد وضع 1,5 mg من الميتوكوندريات، مأخوذة من خلايا الوسط A، في محلول اقتيائي مشع بأيونات الفوسفات P_i وثنائي الأوكسجين O_2 ؛ تم قياس تغيرات ثنائي الأوكسجين في المحلول الاقتيائي بدلالة الزمن (الوثيقة 4). تمت إضافة 450 mmol من ADP إلى المحلول مرتين.

الوثيقة 4

- 3 - استنادا إلى الوثيقتين 3 و4 ومكتسباتك، أنجز خطاطة تركيبية تبرز مراحل هدم الكليكوز في الخلية بالنسبة للوسط A. (1.5 ن)

التمرين الثالث (5نقط)



الوثيقة 1

قصد دراسة كيفية انتقال الصفات الوراثية عند ثنائيات الصيغة الصبغية نقترح المعطيات الآتية:
- تبين الوثيقة 1 خريطتين صبغيتين لذبابة الخل.

1 - بعد مقارنة الخريطتين استخلص الصيغة الصبغية لكل من الذكر والأنثى. (1 ن)

- أنجزت التزاوجات التجريبية الآتية عند سلالتين نقيتين من ذبابات الخل:

التزاوج الأول: بين ذكور ذوي عيون بيضاء (W) وأجنحة متقطعة (C) وإناث متوحشات ذات عيون حمراء (W^+) وأجنحة عادية (C^+)، أعطى جيلا F1 مكونا من ذبابات متوحشات [W^+ , C^+].

التزاوج الثاني: بين إناث ذات عيون بيضاء وأجنحة متقطعة [W, C] و ذكور سلالة متوحشة [C^+ , W^+] أعطى جيلا F1 مكونا من إناث متوحشات وذكور ذوي عيون بيضاء وأجنحة متقطعة [W, C].

التزاوج الثالث: بين ذبابات خل من الجيل F1 للتزاوج الثاني أعطى خلفا F2 مكونا من :

- 810 ذبابات ذات عيون حمراء وأجنحة عادية؛

- 807 ذبابات ذات عيون بيضاء وأجنحة متقطعة؛

- 131 ذبابة ذات عيون حمراء وأجنحة متقطعة؛

- 128 ذبابة ذات عيون بيضاء وأجنحة عادية.

2 - قارن نتائج التزاوجين الأول والثاني. ماذا تستنتج؟ (2 ن)

3- أعط تفسيرا صبغيا لنتائج التزاوج الثالث. (2 ن)

التمرين الرابع (5 نقط)

لمعالجة إشكالية النفايات المنزلية وتدبيرها نقترح دراسة المعطيات الآتية:
- المعطى الأول:

أصبح التخلص من النفايات المنزلية ومعالجتها من القضايا البيئية الملحة. ففي البلدان النامية ارتفعت كميتها من 300 مليون طن سنة 1990 إلى 580 مليون طن سنة 2005؛ أي تضاعفت تقريبا خلال 15 سنة. وتبقى 25% إلى 40% من النفايات الصلبة المطروحة في المراكز الحضرية دون معالجة.

الوثيقة 1

- المعطى الثاني:

كمية النفايات المنزلية ب Kg بالنسبة لكل فرد في اليوم	مدن ومناطق العالم
0,4	مناطق أدنى دخل في جنوب شرق آسيا وأفريقيا
0,7	مدن نموذجية في آسيا وشمال إفريقيا وأمريكا الجنوبية
1,1	مدن نموذجية في الدول الصناعية
2,5	مدن نموذجية في مناطق غنية (الولايات المتحدة الأمريكية وبلدان الخليج)

الوثيقة 2: كمية النفايات المنزلية المطروحة في اليوم بالنسبة لكل فرد، في مناطق ومدن مختلفة من العالم

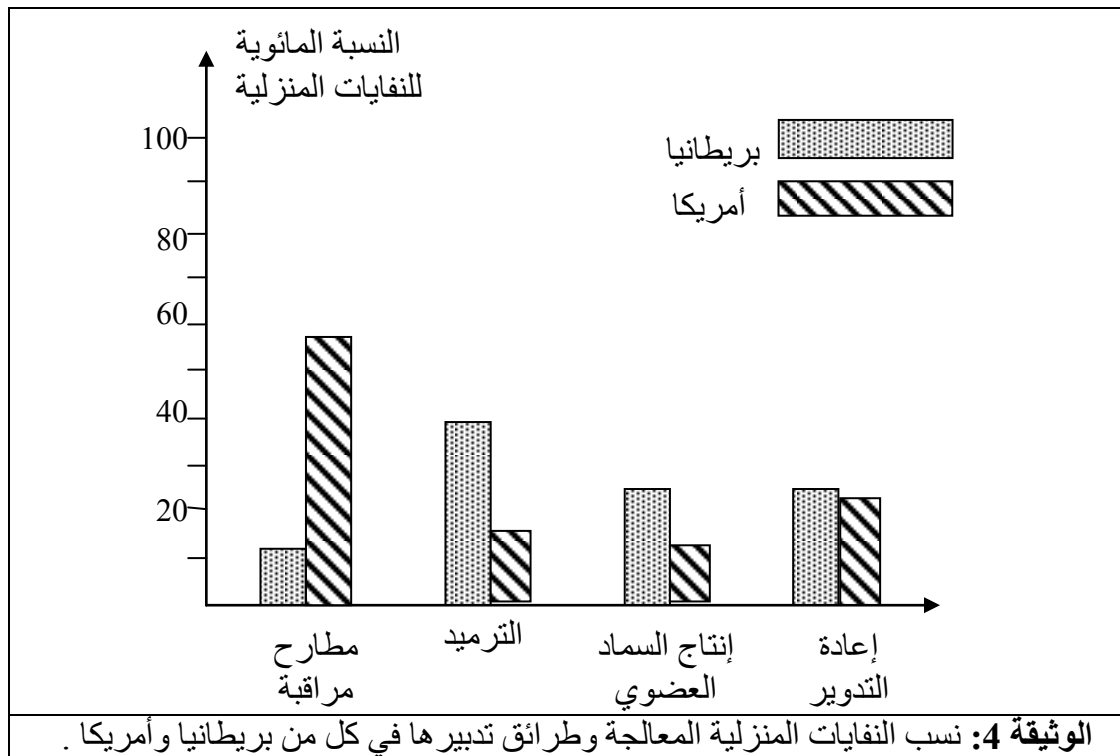
- المعطى الثالث:

نوع النفايات	دول آسيا	بريطانيا	أمريكا	المغرب	الأردن
مواد عضوية	75 %	30.6 %	20 %	70 % - 50 %	70 % - 55 %
ورق	2 %	31.2 %	43 %	10 % - 5 %	17 % - 11 %
معادن	0.1 %	5.3 %	7 %	4 % - 1 %	2.5 % - 2 %
زجاج	0.2 %	3.8 %	9 %	2 % - 1 %	2.5 % - 2 %
بلاستيك	0.1 %	5.2 %	5 %	8 % - 6 %	17 % - 5 %
مواد أخرى	22.6 %	23.9 %	26 %	16 % - 8 %	7 % - 4 %

الوثيقة 3: نسب مكونات النفايات المنزلية المطروحة في بعض الدول.

- 1 - باستثمار معطيات الوثائق 1 و 2 و 3 ، صغ مشكلا علميا يرتبط بقضية النفايات المنزلية في البلدان النامية وعلاقتها بالبيئة. (1 ن)
- 2 - باستغلال الوثيقة 1 ومقارنة معطيات الوثيقة 2 من جهة ومعطيات الوثيقة 3 من جهة ثانية، استنتج ثلاثة أسباب لتزايد حجم النفايات المنزلية. (1.5 ن)

- المعطى الرابع:



- 3 - بعد تحديد طريقة المعالجة الأكثر استعمالا في بريطانيا وأمريكا، استنتج مغللا إجابتك أيهما أحسن تدبيرا للنفايات المنزلية. (1 ن)
- 4- اعتمادا على الوثيقتين 3 و 4، اقترح أنجع الطرائق لمعالجة النفايات المنزلية بالنسبة للمغرب مبرزا مزاياها. (1.5 ن)


 الامتحان الوطني الموحد للبكالوريا
الدورة الاستدراكية 2011
عناصر الإجابة


الصفحة
1
4

5	المعامل	RR34	علوم الحياة والأرض	المادة
3	مدة الإجابة		شعبة العلوم التجريبية مسلك العلوم الفيزيائية	الشعب (ة) أو المسلك

ملحوظة: يمكن قبول أي إجابة منطقية وصحيحة ترتبط بمعطيات الموضوع

رقم السؤال	عناصر الإجابة	النقطة
التمرين الأول (5 نقط)		
1 ن	<p>- سلاسل الطمر سلاسل جبلية تنتج عن انغراز (أو طمر) غلاف صخري محيطي تحت غلاف صخري أقل كثافة، في منطقة تقارب الصفائح</p> <p>- التغيرات الصخرية : انتقال تدريجي من البازلت والكابرو المميزين للقشرة المحيطية إلى الشيست (الأخضر ثم الأزرق) ثم الإيكلوجيت.</p> <p>التغيرات العيدانية : تغير في التركيب العيداني باختفاء معادن (مثل الكلوريت والأكتينوت والكوكوفان) وظهور معادن جديدة (مثل الجاديت والبيجادي) بفعل تغير ظروف الضغط ودرجة الحرارة معا</p>	5
1.5 ن	<p>- العلاقة بين نشوء سلاسل الطمر وحركية الصفائح:</p> <p>+ نتيجة تقارب بين صفيحتين ينغرز غلاف صخري محيطي في الأستينوسفير تحت غلاف صخري أقل كثافة في منطقة تجابه هاتين الصفيحتين.</p> <p>+ ينتج عن هذا الانغراز: ارتفاع في الضغط وفي درجة الحرارة يؤدي إلى تغيرات في التركيب العيداني وبنية صخور القشرة المحيطية (التحول الدينامي). وتحرير للماء وانتشاره في الرداء أسفل القشرة القارية مما يؤدي إلى انصهار جزئي للبيريدوتيت (صخرة الرداء). ينتج عن هذا الانصهار تشكل صهارة تصعد نحو السطح، تعطي صخورا صهارية بلوتونية (كرانيتويدات)، وصخورا بركانية (الأنديت) مميزة لسلاسل الطمر.</p> <p>+ ينتج عن النشاط البركاني الانفجاري وتوالي الضغوط التكتونية تكثيف التشوهات (طيات وفوالق معكوسة) وزيادة في سمك الغلاف الصخري القاري وبالتالي بروز سلسلة جبلية</p>	2.5 ن
التمرين الثاني (5 نقط)		
1	<p>- استهلاك تام للكليكوز من طرف خلايا خميرة البيرة بوجود ثنائي الأوكسجين (وسط A حيواني) في مدة تسعة أيام (الوثيقة 1).</p> <p>تظهر البنية المجهرية لخلية البيرة (الشكل أ- الوثيقة 2) وفرة الميتوكوندريات ذات قد (أو حجم) كبير تناسب ظروف الوسط A. يتعلق الأمر بظاهرة التنفس.</p> <p>- استهلاك غير تام للكليكوز في الوسط B حي لاهوائي (غياب O₂) بالرغم من مرور 90 يوما.</p> <p>تظهر البنية المجهرية لخلية البيرة (الشكل ب الوثيقة 2) نذرة الميتوكوندريات، ما يؤشر على حدوث ظاهرة التخمر (في الوسط B).</p>	1.5 ن

النقطة	عناصر الإجابة	رقم السؤال
2 ن	<p>- في الزمن t_1: انخفاض إشعاع الكلبيكوز في الوسط الخارجي وظهوره في الجبلة الشفافة لخلايا الوسطين A و B يفسر استعمال الخلايا لمادة الكلبيكوز.</p> <p>- في الزمن t_2: ظهور إشعاع متوسط في الحمض البيروفي للجبلة الشفافة في الوسطين معا وإشعاع ضعيف في ميتوكوندريات الوسط A يعني انحلال الكلبيكوز (تحويله إلى حمض البيروفيك).</p> <p>- في الزمن t_3: بالنسبة للوسط A اختفاء الإشعاع في الجبلة الشفافة وظهوره القوي في حمض البيروفيك والضعيف في أحماض دورة Krebs يدل على استعمال الميتوكوندريات لحمض البيروفيك</p> <p>- في الزمن t_4: تركيز الإشعاع في أحماض دورة Krebs داخل ميتوكوندريات الوسط A وظهور CO_2 مشع في الوسط الخارجي يفيد حدوث تفاعلات دورة Krebs.....</p>	2
1.5 ن	<p>The diagram illustrates the three stages of cellular respiration:</p> <ul style="list-style-type: none"> الجبلة الشفافة (Glycolysis): Input: NAD. Output: ATP, NADH+H. ماتريس الميتوكوندري (Krebs Cycle): Input: NAD, FAD. Output: CO_2, NADH+H⁺, FADH₂, ATP(GTP). الغشاء الداخلي للميتوكوندري (Oxidative Phosphorylation): Input: O₂, ADP + Pi. Output: ATP, H₂O. 	3

التمرين الثالث (5 نقط)

1 ن	- مقارنة وتحديد صحيح للصيغة الصبغية لكل من الذكر والأنثى.	1
1 ن	- في التزاوج الأول: الحصول على جيل متجانس في الجيل الأول (تحقق القانون الأول لماندل) وعلى جيل غير متجانس حسب الجنس في التزاوج الثاني (الإناث متوحشات $[W^+, C^+]$ ، الذكور متنحو الصفتين $[W, C]$).	2
1 ن	- الاستنتاج: يتعلق الأمر ب: - هجونة ثنائية؛ - وراثة مرتبطة بالجنس: المورثتان محمولتان على الصبغي X؛ - سيادة الحليل W^+ على الحليل W؛ - سيادة الحليل C^+ على الحليل C.	1

النقطة	عناصر الإجابة	رقم السؤال																				
	<p>التفسير الصبغي للتزاوج الثالث: + حصول نسبة عالية من المظاهر الخارجية الأبوية مقارنة مع نسبة المظاهر الخارجية جديدة التركيب، يدل على أن المورثتين مرتبطتان. + التفسير الصبغي: الأبوان: المظاهر الخارجية: $[W^+, C^+]$ ♀ النمط الوراثي: $X_{W^+ C^+} X_{Wc}$ ♀ $[W, C]$ ♂ النمط الوراثي: $X_{Wc} Y$ ♂</p> <p style="text-align: center;"> $\begin{array}{ccc} [W, C] \text{ ♂} & \times & [W^+, C^+] \text{ ♀} \\ X_{Wc} Y \text{ ♂} & & X_{W^+ C^+} X_{Wc} \text{ ♀} \\ \downarrow & & \downarrow \\ X_{Wc} & Y & X_{W^+ C^+} X_{W^+ C} X_{Wc^+} X_{Wc} \end{array}$ </p> <p style="text-align: right;">الأمشاج: X_{Wc} Y $X_{W^+ C^+}$ $X_{W^+ C}$ X_{Wc^+} X_{Wc}</p> <p style="text-align: right;">شبكة التزاوج:</p> <table border="1" style="margin-left: auto; margin-right: auto;"> <tr> <td style="text-align: center;">♀ الأمشاج</td> <td style="text-align: center;">$X_{W^+ C^+}$</td> <td style="text-align: center;">$X_{W^+ C}$</td> <td style="text-align: center;">X_{Wc^+}</td> <td style="text-align: center;">X_{Wc}</td> </tr> <tr> <td style="text-align: center;">♂ الأمشاج</td> <td style="text-align: center;">$X_{W^+ C^+}$ 43%</td> <td style="text-align: center;">$X_{W^+ C}$ 7%</td> <td style="text-align: center;">X_{Wc^+} 7%</td> <td style="text-align: center;">X_{Wc} 43%</td> </tr> <tr> <td style="text-align: center;">X_{Wc} 50%</td> <td style="text-align: center;">$X_{W^+ C^+} X_{Wc}$ [W⁺, C⁺] 21,5%</td> <td style="text-align: center;">$X_{W^+ C} X_{Wc}$ [W⁺, C] 3,5%</td> <td style="text-align: center;">$X_{Wc^+} X_{Wc}$ [W, C⁺] 3,5%</td> <td style="text-align: center;">$X_{Wc} X_{Wc}$ [W, C] 21,5%</td> </tr> <tr> <td style="text-align: center;">Y 50%</td> <td style="text-align: center;">$X_{W^+ C^+} Y$ [W⁺, C⁺] 21,5%</td> <td style="text-align: center;">$X_{W^+ C} Y$ [W⁺, C] 3,5%</td> <td style="text-align: center;">$X_{Wc^+} Y$ [W, C⁺] 3,5%</td> <td style="text-align: center;">$X_{Wc} Y$ [W, C] 21,5%</td> </tr> </table> <p>- نحصل على: - 43% ذبابات ذات عيون حمراء وأجنحة عادية؛ - 43% ذبابات ذات عيون بيضاء وأجنحة متقطعة؛ - 7% ذبابات ذات عيون حمراء وأجنحة متقطعة؛ - 7% ذبابات ذات عيون بيضاء وأجنحة عادية. + تطابق النتائج النظرية مع النتائج التجريبية.</p>	♀ الأمشاج	$X_{W^+ C^+}$	$X_{W^+ C}$	X_{Wc^+}	X_{Wc}	♂ الأمشاج	$X_{W^+ C^+}$ 43%	$X_{W^+ C}$ 7%	X_{Wc^+} 7%	X_{Wc} 43%	X_{Wc} 50%	$X_{W^+ C^+} X_{Wc}$ [W ⁺ , C ⁺] 21,5%	$X_{W^+ C} X_{Wc}$ [W ⁺ , C] 3,5%	$X_{Wc^+} X_{Wc}$ [W, C ⁺] 3,5%	$X_{Wc} X_{Wc}$ [W, C] 21,5%	Y 50%	$X_{W^+ C^+} Y$ [W ⁺ , C ⁺] 21,5%	$X_{W^+ C} Y$ [W ⁺ , C] 3,5%	$X_{Wc^+} Y$ [W, C ⁺] 3,5%	$X_{Wc} Y$ [W, C] 21,5%	3
♀ الأمشاج	$X_{W^+ C^+}$	$X_{W^+ C}$	X_{Wc^+}	X_{Wc}																		
♂ الأمشاج	$X_{W^+ C^+}$ 43%	$X_{W^+ C}$ 7%	X_{Wc^+} 7%	X_{Wc} 43%																		
X_{Wc} 50%	$X_{W^+ C^+} X_{Wc}$ [W ⁺ , C ⁺] 21,5%	$X_{W^+ C} X_{Wc}$ [W ⁺ , C] 3,5%	$X_{Wc^+} X_{Wc}$ [W, C ⁺] 3,5%	$X_{Wc} X_{Wc}$ [W, C] 21,5%																		
Y 50%	$X_{W^+ C^+} Y$ [W ⁺ , C ⁺] 21,5%	$X_{W^+ C} Y$ [W ⁺ , C] 3,5%	$X_{Wc^+} Y$ [W, C ⁺] 3,5%	$X_{Wc} Y$ [W, C] 21,5%																		
2 ن	<p style="text-align: center;">التمرين الرابع (5 نقط)</p> <p>- المشكل العلمي: أمام تزايد النفايات المنزلية (بفعل أسباب متعددة) كيف تستطيع الدول النامية (من بينها المغرب) تدبير نفاياتها المنزلية دون إضرار بالبيئة؟ ملحوظة: تعتبر كل صياغة للمشكل من قبل المترشح(ة) صحيحة إذا تضمنت علاقة بين حجم النفايات وتدبيرها والمحافظة على البيئة.</p>	1																				
1 ن	<p>.....</p>																					

النقطة	عناصر الإجابة	رقم السؤال
1.5 ن	<p>- الاستغلال والمقارنة:</p> <ul style="list-style-type: none"> - تزايد حجم النفايات. 25% إلى 40% منها تبقى دون معالجة (الوثيقة 1). - كلما ازداد دخل الفرد ارتفعت كمية النفايات المنزلية المطروحة (الوثيقة 2). - اختلاف نسب مكونات النفايات المنزلية حسب نمط الاستهلاك (نسبة مرتفعة للنفايات العضوية في الدول النامية من 50% إلى 75% قياسا إلى الدول الصناعية من 20% إلى 30% ... (الوثيقة 3). <p>الاستنتاج: ذكر ثلاثة أسباب من بين الأسباب الآتية:</p> <ul style="list-style-type: none"> - ارتفاع عدد السكان؛ - ارتفاع الدخل الفردي (مستوى العيش)؛ - غياب أو سوء تدبير النفايات المنزلية؛ - تغير نمط الاستهلاك؛ 	2
1 ن	<ul style="list-style-type: none"> - بريطانيا: الترميد بنسبة 40%؛ أمريكا: المطارح المراقبة بنسبة 60% تقريبا. - بريطانيا أحسن تدبيرا للنفايات المنزلية لاعتمادها 3 طرائق أكثر نجاعة وأهمية (الترמיד وإنتاج السماد العضوي وإعادة التدوير، بنسبة 90% تقريبا) وأقل ضررا بالبيئة. 	3
1.5 ن	<p>أنجع الطرائق بالنسبة للمغرب:</p> <ul style="list-style-type: none"> - إنتاج السماد العضوي ← + تخفيض حجم النفايات، + تحسين المردود الفلاحي، - الترميد ← + تخفيض حجم النفايات، + الحصول على طاقة (كهرباء، حرارة)، + إنتاج بخار التدفئة، - إعادة التدوير: ← + إعادة استعمال المواد المطروحة في المجال الصناعي. 	4